

23

Les quadrilatères (2)

Je reconnais un quadrilatère, je calcule le périmètre, je marque les égalités des côtés.

Mesure les côtés

AB = BC = CD = DA =

4 côtés égaux : oui non

4 côtés égaux deux à deux : oui non

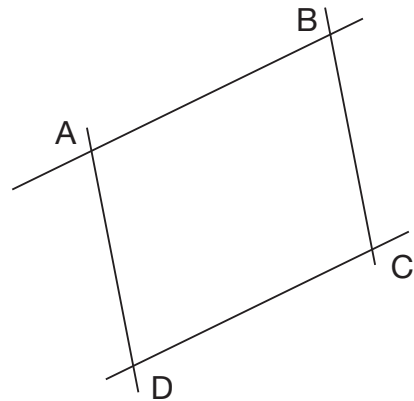
4 angles droits : oui non

Type de quadrilatère :

Périmètre, formule :

Calcul :

Réponse :



Mesure les côtés

AB = BC = CD = DA =

4 côtés égaux : oui non

4 côtés égaux deux à deux : oui non

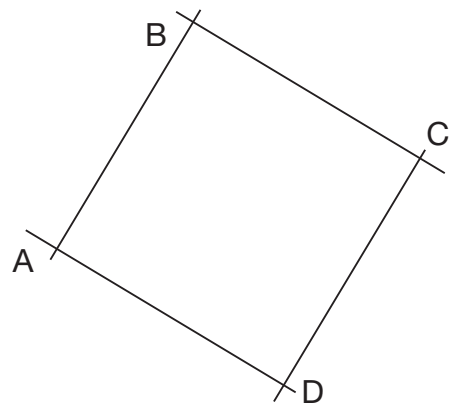
4 angles droits : oui non

Type de quadrilatère :

Périmètre, formule :

Calcul :

Réponse :



Mesure les côtés

AB = BC = CD = DA =

4 côtés égaux : oui non

4 côtés égaux deux à deux : oui non

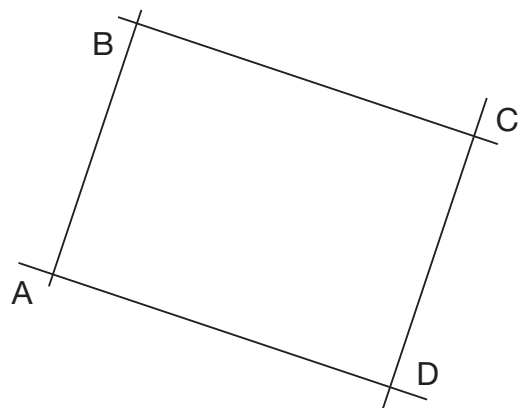
4 angles droits : oui non

Type de quadrilatère :

Périmètre, formule :

Calcul :

Réponse :



Mesure les côtés

AB = BC = CD = DA =

4 côtés égaux : oui non

4 côtés égaux deux à deux : oui non

4 angles droits : oui non

Type de quadrilatère :

Périmètre, formule :

Calcul :

Réponse :

